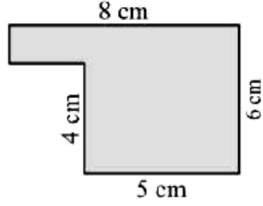


Time: 10 Minutes	Paper Math 7 (T-1)	Total Marks: 10
4th Month, 2nd Week, 3rd Day	Exercise 3.5 Q # (1,2,3)	

☆ Answer the following questions: درج ذیل سوالات کے جواب دیں۔

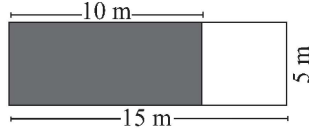
Q.1. Find the area and perimeter of the given composite figures. ($1 \times 2.5 = 2.5$)

دی گئی مرکب اشکال کا احاطہ اور رقبہ معلوم کریں۔



Q.2. Some part of a floor of a hall is covered with carpet. Find the portion of the floor uncovered. ($1 \times 5 = 5$)

ایک ہال کے فرش کا کچھ حصہ قالین سے ڈھانپا ہوا ہے۔ بغیر ڈھانپے ہوئے فرش کا حصہ معلوم کریں۔



Q.3. Complete the table.

($1 \times 2.5 = 2.5$)

جدول مکمل کریں۔

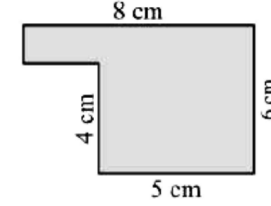
Sr. No	mm^2	cm^2	m^2
(i)	1400		
(ii)		100	
(iii)			5

Time: 10 Minutes	Paper Math 7 (T-1)	Total Marks: 10
4th Month, 2nd Week, 3rd Day	Exercise 3.5 Q # (1,2,3)	

☆ Answer the following questions: درج ذیل سوالات کے جواب دیں۔

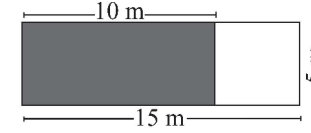
Q.1. Find the area and perimeter of the given composite figures. ($1 \times 2.5 = 2.5$)

دی گئی مرکب اشکال کا احاطہ اور رقبہ معلوم کریں۔



Q.2. Some part of a floor of a hall is covered with carpet. Find the portion of the floor uncovered. ($1 \times 5 = 5$)

ایک ہال کے فرش کا کچھ حصہ قالین سے ڈھانپا ہوا ہے۔ بغیر ڈھانپے ہوئے فرش کا حصہ معلوم کریں۔



Q.3. Complete the table.

($1 \times 2.5 = 2.5$)

جدول مکمل کریں۔

Sr. No	mm^2	cm^2	m^2
(i)	1400		
(ii)		100	
(iii)			5